

2026年度 共愛学園前橋国際大学
一般選抜A

地歴（歴史総合、日本史探究）試験
（試験時間60分）

〔注意事項〕

1. 試験時間中に机の上に置ける物は、受験票、筆記用具、消しゴム、時計（時計機能のみのもの）のみです。これ以外のものは試験時間中に使用することはできません。
2. 解答用紙には、氏名・受験番号・試験区分・科目を忘れずに記入およびマークをしてください。
3. 解答用紙に正しく記入・マークされていない場合は、採点できないことがあります。
4. 解答は解答用紙の解答欄にマークしてください。例えば、と表示のある問いに対してと解答する場合は、解答記入欄にマークしてください。
5. 試験中、質問がある場合や、気分が悪くなった場合は、手をあげて試験監督者から指示を受けてください。
6. 不正行為があったときは、直ちに退室を命じ受験資格を取り消します。それ以後の受験はできません。すでに受験したすべての科目も無効とします。
7. 試験監督者の指示があるまで、退席しないでください。
8. 試験終了時には、解答用紙のみ提出し、その他は持ち帰ってください。

注：以下の問題において資史料は一部省略したり、書き改めたりしたところがあります。

第1問 次の略年表を見て、あとの問いに答えなさい。

年	出来事
1867	大阪府堺市に生まれる
1877	前橋に移り (a) 桃井小学校に転校する
1884	海軍兵学校に入る
1894	(b) 日清戦争が起こり、旅順・威海衛の戦いに参加する
1905	日本海海戦に第四駆逐隊司令として参加する
1929	侍従長となり、枢密顧問官を兼ねる
1936	(d) 2・26事件が起き銃撃される
1945	内閣総理大臣となる 内閣総辞職する
1948	千葉県野田市の自宅で逝去する

問1 略年表中の下線部 (a) に関連して、この時期の小学校に関する出来事として最も適切なものを次の①～④から1つ選び、番号をマークしなさい。 **1**

- ① 学校令の公布
- ② 教育勅語の発布
- ③ 学制の公布
- ④ 大教宣布の詔の発出

問2 略年表中の下線部 (b) に関連して、下関条約の内容として最も適切なものを次の①～④から1つ選び、番号をマークしなさい。 **2**


- ① 両国は朝鮮から撤兵し、今後朝鮮に出兵する場合は互いに事前通告する。
- ② 遼東半島および台湾・澎湖諸島を日本にゆずる。
- ③ 韓国に対する日本の指導・監督権を認める。
- ④ 相互に領事裁判権を認め合う。

問3 略年表中の(c)の期間の生活について調べるときに最も適切なものを次の①～④から1つ選び、番号をマークしなさい。 **3**

①



②



③



④



問4 略年表中の下線部(d)に関連して、この出来事の説明として正しいものをA群とB群からそれぞれ選び、その組合せとして最も適切なものを下の①～④から1つ選び、番号をマークしなさい。 **4**

- A群 ア 首相官邸におし入った海軍青年将校により犬養毅首相が殺害された。
 イ 首相官邸を襲った陸軍青年将校により斎藤実内大臣が殺害された。
 B群 ウ この事件の後に陸軍内で統制派の主導権が確立した。
 エ この事件の後にそれまで続いていた憲政の常道の流れが途絶えた。

- ① ア・ウ ② ア・エ ③ イ・ウ ④ イ・エ

問5 この略年表の人物として最も適切なものを次の①～④から1つ選び、番号をマークしなさい。 **5**

- ① 米内光政 ② 東条英機 ③ 近衛文麿 ④ 鈴木貫太郎

第2問 次の文A～Eを読み、あとの問いに答えなさい。

A 第二次世界大戦後の1945年10月に世界の平和と安全をめざして国際連合が発足した。

問1 Aの文中の下線部に関連して、国際連合の発足に関する出来事として最も適切なものを次の①～④から1つ選び、番号をマークしなさい。 **6**

- ① 安全保障理事会の設置
- ② ウィルソンの14か条提唱
- ③ 北大西洋条約の締結
- ④ トルーマン＝ドクトリンの宣言

B 1940年代以降、アメリカを中心とする資本主義諸国とソ連を中心とする社会主義諸国との対立が始まり、冷戦とよばれるようになった。

問2 Bの文中の下線部に関連して、この対立の中で起きた出来事として誤っているものを次の①～④から1つ選び、番号をマークしなさい。 **7**

- ① キューバ危機の発生
- ② ベルリンの壁の建設
- ③ 朝鮮戦争の勃発
- ④ 国共合作の成立

C 1970年代に入ると、冷戦が続く中、米ソは各陣営の盟主としての国際的地位の確認を目指して接近し、緊張の緩和が進んだ。

問3 Cの文中の下線部に関連して、この動きに関する出来事として適切なものを次の①～④から1つ選び、番号をマークしなさい。 **8**

- ① ニクソン大統領の訪中
- ② 北大西洋条約機構（NATO）の設立
- ③ ワルシャワ条約機構の結成
- ④ ベトナム戦争の泥沼化

D 1989年12月、米ソ両国の首脳会談がマルタ島で行われ、冷戦の終結が宣言された。しかしその後も世界各地で地域紛争が激化し、紛争解決の努力と平和維持の活動が続いている。

問4 Dの文中の下線部に関連して、この時の米ソの首脳として最も適切な組み合わせを下の①～④から1つ選び、番号をマークしなさい。 **9**

ア ブッシュ (父) 大統領 イ レーガン大統領
ウ フルシチョフ書記長 エ ゴルバチョフ書記長

① ア・ウ ② ア・エ ③ イ・ウ ④ イ・エ

E 第二次世界大戦後の世界の動きの中で日本の政治は、占領期を経て国際社会へ復帰し、冷戦が続く中での保守革新の主導権争いや冷戦終結後の国際化の時代への対応など、世界の動きに対応しながら進められてきた。

問5 次の史料に見る出来事は、上記A～Dのどの時期に関連しているか、最も適切なものを下の①～④から1つ選び、番号をマークしなさい。 **10**

沖縄返還協定 第一条

1 アメリカ合衆国は、2に定義する琉球諸島及び大東諸島だいとうに関し千九百五十一年昭和二十六九月八日にサン・フランシスコ市で署名された日本国との平和条約第三条の規定に基づくすべての権利及び利益を、この協定の効力発生の日から日本国のために放棄する。……

① A ② B ③ C ④ D

問6 次の史料ア～エを年代順に並べた時、最も適切なものを下の①～④から1つ選び、番号をマークしなさい。11

ア

著作権の関係で
表示していません

※カンボジアでのPKO



ウ

米、金・ドル交換を停止

ドル防衛へ政策大転換
輸入に課徴金10%
国際通貨の再調整迫る

「円」自由化「圧力強まる」

IMF体制に異議
事実上のドル切り
国際通貨市場の

賃金物価、90日凍結
インフレ失業にも対策



エ

著作権の関係で
表示していません

※リーマン経営破綻
毎日新聞 2008年9月16日

- ① ア → イ → ウ → エ ② イ → ウ → ア → エ
③ イ → ウ → エ → ア ④ ウ → イ → エ → ア

第3問 次の「学習のねらい」と文A～Dを読み、あとの問いに答えなさい。

「学習のねらい」

前橋さんは日本史探究の授業で、「外国から伝わった文化や技術が、当時の社会や人々の生活だけでなく、現在に至るまで私たちの生活に深く関係している」ことを学んだ。そこで、古代を中心に「文化の伝来とその影響」について調べてみた。

A 米と生活

縄文文化の終末期に大陸から水稻耕作が伝わると、紀元前5～前4世紀頃に東日本にも広まった。食料生産が始まると人々の生活は大きく変化した。以来、米は日本人の食生活に欠かせないものとなり、江戸時代、大正時代そして現代でも米価の高騰が国の政治を左右する政治課題となっている。

問1 Aの文中の下線部に関連して、この動きとして誤っているものを次の①～④から1つ選び、番号をマークしなさい。12

- ① 環濠集落や高地性集落が現れ、各地に「クニ」とよばれる小国家が分立した。
- ② 九州北部などでは支石墓や甕棺墓がみられた。
- ③ 耕作用農具には石包丁、木製の鍬や鋤、木臼や竪杵などが用いられた。
- ④ 呪術や儀礼のために土偶や石棒がつくられた。

B 馬と生活

5世紀頃に造られた古墳から副葬品として馬の埴輪や馬具が見つかっており、この頃に大陸から馬や(a)飼育技術が伝わってきたことがわかる。以来、馬は戦いの用具、交通や運輸の用具、(b)農耕の用具など多方面で人々の生活を支えてきた。近年になり農耕の機械化や自動車の普及により人々の生活から姿を消しつつある。

問2 Bの文中の下線部(a)、(b)に関連して、次のア、イの文の正誤について最も適切なものを下の①～④から1つ選び、番号をマークしなさい。13

ア 渋川市金井下新田遺跡の発掘調査における2頭の馬の発見は、この周辺で馬の繁殖飼育が行われていたことを示す。

イ モンゴル襲来の前後では、牛馬を利用した農耕が広がり、畿内や西国では二毛作が普及していった。

- ① ア 正 イ 正 ② ア 正 イ 誤
- ③ ア 誤 イ 正 ④ ア 誤 イ 誤

C 仏教と生活

仏教伝来は6世紀の欽明天皇の時代に百済の聖明王が仏像や経論などを伝えた時とされる。その後、(c) 崇仏・廃仏の争いを経て、仏教の導入が本格化した。これ以後の日本文化は(d) 様々な形で仏教と関連しながら発展し、今日においても私たちの生活と深くかかわっている。

問3 Cの文中の下線部(c)に関連して、次の文の空欄(ア)～(ウ)に当てはまる語の組合せとして最も適切なものを下の①～④から1つ選び、番号をマークしなさい。[14]

崇仏派の大臣(ア)は廃仏派の大連(イ)を滅ぼし、さらに(ウ)を暗殺して政治権力を握った。

- | | | | | | | |
|---|---|------|---|------|---|------|
| ① | ア | 蘇我入鹿 | イ | 大伴金村 | ウ | 用明天皇 |
| ② | ア | 蘇我入鹿 | イ | 物部守屋 | ウ | 用明天皇 |
| ③ | ア | 蘇我馬子 | イ | 物部守屋 | ウ | 崇峻天皇 |
| ④ | ア | 蘇我馬子 | イ | 大伴金村 | ウ | 崇峻天皇 |

問4 Cの文中の下線部(d)に関連して、鎌倉時代の仏教信仰と神信仰の関連を述べた文として最も適切なものを次の①～④から1つ選び、番号をマークしなさい。[15]

- ① 仏と日本固有の神々とを結びつける本地垂迹説が生まれた。
- ② 伊勢神宮の神官度会家行により神本仏迹の伊勢神道がとえられた。
- ③ 山岳信仰と結びついた修験道が起こり、吉野や白山などが舞台となった。
- ④ 薬師寺の僧形八幡神像や神功皇后像などが造られた。

D 文字と生活

日本には文字がなかったが、5世紀から6世紀の頃、(e) 大陸や半島から渡来した人々を中心に漢字が本格的に使用されるようになった。平安時代には漢字から(f) かな文字がつくられ、これらの文字は現在まで続いて日本の文化を支えている。

問5 Dの文中の下線部(e)に関連して、養蚕や機織りの技術を伝えたといわれる人物として最も適切なものを次の①～④から1つ選び、番号をマークしなさい。[16]

- | | | | |
|---|--------------|---|----------------|
| ① | 西文氏の祖といわれる王仁 | ② | 東漢氏の祖といわれる阿知使主 |
| ③ | 秦氏の祖といわれる弓月君 | ④ | 鞍作氏の祖といわれる司馬達等 |

問6 Dの文中の下線部（f）に関連して、平安時代のかな文字の名手の呼び名とそうした名手に数えられた人物の組合せとして最も適切なものを下の①～④から1つ選び、番号をマークしなさい。17

呼び名：ア 三筆 イ 三跡
人物：ウ 小野道風 エ 橘逸勢

① ア・ウ ② ア・エ ③ イ・ウ ④ イ・エ

第4問 次の古代に関する文A～Eを読み、あとの問いに答えなさい。

A 律令制度下の地方組織は畿内・七道に区分され、各国には中央から国司が派遣され、徴税などの任務をおこなった。

問1 Aの文中の下線部に関連して、次のア～エの各文の正誤について最も適切なものを下の①～⑤から1つ選び、番号をマークしなさい。18

ア 租は田一反につき稲2束2把が課せられた。
イ 調は絹、綿、糸、海産物などが課せられ運脚の義務もあった。
ウ 雑徭は年60日を限度として地方での労役に従事した。
エ 出挙は国家が農民に春に稲を貸し秋に利息とともに徴収した。

① 全て正しい ② アのみ誤り ③ イのみ誤り
④ ウのみ誤り ⑤ エのみ誤り

B 平安時代の初期には律令体制の再建がおこなわれ、地方政治の改革では一部地域を除いて軍団を廃止し健児を採用した。また新たに国司の交代の際の事務引継ぎを監督する（ a ）を設置した。班田収授の改革では（ b ）。

問2 (a) に当てはまる語と (b) に当てはまる文の組合せとして最も適切なものを下の①～④から1つ選び、番号をマークしなさい。19

- a : ア 検非違使 イ 勘解由使
b : ウ 墾田の私有を永代にわたり認めた
 エ 口分田の班給を12年ごとにした

- ① ア・ウ ② ア・エ ③ イ・ウ ④ イ・エ

C 10世紀の初めには律令体制の行き詰まりがはっきりしてきた。政府は律令体制の再建を目指して様々な改革をおこなった。この改革の時に『日本三代実録』や『古今和歌集』の編纂がおこなわれた。

問3 Cの文の下線部に関連して、次の史料を見て、下の問いに答えなさい。

太政官符す
 ^{まさ} 応に^{ちよくし} 勅旨開田^{なら} 並びに諸院諸宮及び五位以上の、百姓の^{しゃたく} 田地舎宅を買ひ取り、閑
 地^{せんせい} 荒田を占請^{ちようじ}するを停止すべきの事

問 上の史料の説明として誤っているものを次の①～④から1つ選び、番号をマークしなさい。20

- ① 勅旨田の開田を禁止した。
② 皇族や五位以上の貴族が閑地・荒田を占拠することを停止した。
③ 醍醐天皇の時に下された延喜の荘園整理令である。
④ 記録荘園券契所が設置された。

D 律令体制による地方行政が十分機能しなくなると、政府は租税を実質的に確保するために、赴任する国司に大きな権限を認めた。こうした結果、赴任した国司の中には徴税とともに自らの収入の確保のために暴政をおこない、郡司や有力農民から訴えられる国司もいた。

問4 Dの文の下線部に関連して、こうした出来事の事例として最も適切な組み合わせを下の①～④から1つ選び、番号をマークしなさい。[21]

ア 尾張の国守 イ 因幡の国守
ウ 藤原元命 エ 藤原実政

① ア・ウ ② ア・エ ③ イ・ウ ④ イ・エ

E 律令体制の行き詰まりに伴う地方政治の混乱を背景に各地で紛争が発生した。土着した国司の子孫や地方豪族などは勢力を維持・拡大するために武装するようになり、やがて大きな武士団を形成し、国に反抗する者もあらわれた。

問5 Eの文の下線部に関連して、次のA群のア、イとB群のウ、エの文で正しい組み合わせとして最も適切なものを下の①～④から1つ選び、番号をマークしなさい。[22]

A群 ア 平将門は常陸・下野・上野の国府を攻め落とした。
イ 藤原純友は伊予の国府や大宰府を攻め落とした。
B群 ウ この乱は源頼義、源義家により鎮圧された。
エ この乱は藤原秀郷、平貞盛らにより鎮圧された。

① ア・ウ ② ア・エ ③ イ・ウ ④ イ・エ

第5問 次の史料を読み、あとの問いに答えなさい。



問1 上の史料を見て、この史料から読み取れないこととして最も適切なものを次の①～④から1つ選び、番号をマークしなさい。23

- ① 米や布などの商品が売買されている。
- ② 水運が利用されている。
- ③ 常設の店棚が設置されている。
- ④ 様々な身分や階層の人がいる。

産業と交通の発達

およ凡そ京の町人、浜の商人、鎌倉のあつら誂へ物、宰府のさいふ交易、室・兵庫のむろ船頭、淀・
 河尻のとね刀禰、大津・坂本のばしやく馬借、鳥羽・白河のしやしやく車借、泊々のとまり借上げ、湊々のかしあ替
ぜに銭、浦浦のうらうら問丸、割符を以てこれを進上し、俵載に任せてこれを運送す。

問2 上の史料を見て、この史料から読み取れないこととして最も適切なものを次の①～④から1つ選び、番号をマークしなさい。24

- ① 京都と鎌倉の間で商人が行き来している。
- ② 瀬戸内海や淀川で水運が発達している。
- ③ 京都周辺で馬や牛を利用した流通がおこなわれている。
- ④ 商業取引に悪銭と精銭が使われるので撰銭がおこなわれている。

しょうちよう
 正長の徳政一揆
一四二八
 (正長元年) 九月 日、一天下の土民蜂起す。徳政と号し、酒屋・土倉・寺院等
はきやく ぞうもつ ほしいまま しゃくせん ことごと かん(管)れい
 を破却せしめ、雑物等恣にこれを取り、借錢等、悉くこれを破る。官領これ
せいばい およ ぼうこく もとい かいびやく
 を成敗す。凡そ亡国の基、これに過ぐべからず。日本開白以来、土民蜂起是れ
 初めなり。

問3 上の史料を読み、史料の出来事の説明として誤っているものを次の①～④から1つ
 選び、番号をマークしなさい。25

- ① この一揆の成果が春日社領の農民により巨石に刻まれた。
- ② この一揆はその後に起きた大規模な一揆の先駆けとなった。
- ③ この一揆は山城の国から畠山氏を退去させ一揆の自治支配を実現させた。
- ④ この一揆は京都の土倉・酒屋などを襲って質物や貸借証文を奪った。

ぞうてんりゆうじそうせんいっそう ごうし よし う そうろう こう
 造天龍寺宋船一艘の事、綱司として渡宋すべきの由、申し請け候上は、商売の好
お い げんせん ご かんもん じ け うけぶみ
 悪を謂はず、帰朝の時、現錢伍千貫文を寺家に進納せしむべく候。よって請文く
ごと
 だんの如し。

問4 上の史料を読み、この史料に関連する説明として正しいものを次の①～④から1つ
 選び、番号をマークしなさい。26

- ① 足利尊氏が後醍醐天皇の冥福を祈るための寺を造営しようとした。
- ② 栄西や道元、蘭溪道隆や無学祖元のように禅僧の往来があった。
- ③ 三浦と漢城に倭館が設置され木綿が大量に輸入された。
- ④ 鎌倉幕府が寺の修造資金を得ようと船を元に派遣した。

第6問 次の戦国時代から安土桃山時代に関する問いに答えなさい。

問1 次のA群とB群はこの時代の都市に関して説明したものである。A群にもB群にも説明がある都市を下の①～④から1つ選び、番号をマークしなさい。[27]

- A群 ア 戦国大名の大内氏の城下町である。
イ 戦国大名の武田氏の城下町である。
ウ 戦国大名の伊達氏の城下町である。
エ 戦国大名の上杉氏の城下町である。

- B群 オ この町にフランシスコ・ザビエルが上陸した。
カ この町は豊臣秀吉の軍に攻撃された。
キ この町は西の京とよばれ多くの文化人が訪れた。
ク この町は徳川家康が大御所として生活した。

- ① 甲府 ② 静岡 ③ 鹿児島 ④ 山口

問2 次の文を読み、下の問いに答えなさい。

天下統一をめざす織田信長はそれまでの考え方にとらわれない考え方の持ち主だった。(a) を攻撃したように神仏を絶対視した価値観を打破して新しい時代をつくらうとした。こうした考え方は (b) の戦いにもあらわれている。また経済政策では安土の城下に (c) を出して城下の繁栄を図ろうとし、(d) により商人の往来を活発化させ流通経済を盛んにしようとした。

問2の1 上の文中の (a) に当てはまる語と (b) に当てはまる語の組合せとして最も適切なものを下の①～④から1つ選び、番号をマークしなさい。[28]

- a : ア 興福寺 イ 延暦寺
b : ウ 石山合戦 エ 加賀の一向一揆

- ① ア・ウ ② ア・エ ③ イ・ウ ④ イ・エ

問2の2 上の文中の (c) に当てはまる語と (d) に当てはまる語の組合せとして最も適切なものを下の①～④から1つ選び、番号をマークしなさい。[29]

- c : ア 楽市令 イ 指出検地令
d : ウ 南蛮貿易の開始 エ 関銭の廃止

- ① ア・ウ ② ア・エ ③ イ・ウ ④ イ・エ


問3 次の文を読み、下の問いに答えなさい。

豊臣秀吉は（ a ）の後、大村純忠が（ b ）をイエズス会に寄付していることを知り、キリスト教の国が布教活動を利用して領土を広げようとしていると考え、バテレン追放令を発出した。しかしこの法令を見ると、（ c ）ことから、法令の目的は徹底したとは考えられない。

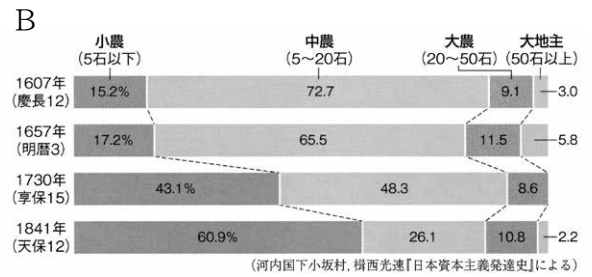
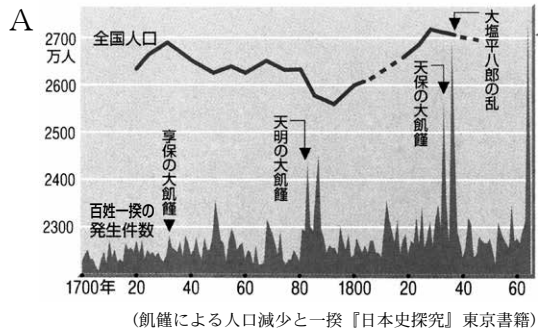
問 上の文の（ a ）～（ c ）に入る語の組合せとして最も適切なものを次の ①～④ から1つ選び、番号をマークしなさい。 **30**

- | | | | |
|---|--------|------|----------------|
| ① | a 九州平定 | b 長崎 | c 新教と旧教を区別してない |
| ② | a 九州平定 | b 長崎 | c 貿易を禁止してない |
| ③ | a 文禄の役 | b 堺 | c 貿易を禁止してない |
| ④ | a 文禄の役 | b 堺 | c 新教と旧教を区別してない |

問4 織豊政権の時代を中心とする文化である桃山文化として、最も適切なものを次の ①～④ から1つ選び、番号をマークしなさい。 **31**



第7問 次の江戸時代に関する資史料A～Cを読み、あとの問いに答えなさい。



問1 Aの資料に関連して、Aの資料から読み取れない文を次の①～④から1つ選び、番号をマークしなさい。 [32]

- ① 江戸時代は凶作や飢饉が繰り返し起きた。
- ② 凶作や飢饉と百姓一揆の発生には関連がある。
- ③ 人口減少は大飢饉と関連する。
- ④ 18世紀になると村方騒動が各地でおこった。

問2 Bの資料に関連して、次の文の(a)、(b)に入る語の組合せとして最も適切なものを下の①～④から1つ選び、番号をマークしなさい。 [33]

貨幣経済に巻き込まれた江戸時代の農村では、小農民が増加し、中農民が減少した反面、富裕の農民が土地を入手していった。その結果、田畑を失った農民は小作人になる、奉公や出稼ぎなどに出る、都市に流入して下層民になる、などの道をたどった。江戸に流入してきた人の対策として幕府は (a) が (b) を出したり、江戸石川島に人足寄場を設けたりした。

- a : ア 水野忠邦 イ 松平定信
 b : ウ 人返しの法 エ 旧里帰農令

- ① ア・ウ ② ア・エ ③ イ・ウ ④ イ・エ

問3 Cの史料に関連して、次の文の(a)、(b)に入る語の組合せとして最も適切なものを下の①～④から1つ選び、番号をマークしなさい。34

天保の大飢饉では大坂で多くの餓死者が出ていた。しかし富裕な商人が米の買い占めで暴利を得る一方、奉行所は大坂から江戸へ米を回送していた。この事態に大坂町奉行所元与力で(a)の大塩平八郎は門弟や民衆に呼びかけ武装蜂起した。またこの事件の影響で(b)では生田万が陣屋を襲撃する事件を起こすなど不穏な動きが続いた。

a : ア 陽明学者 イ 朱子学者
b : ウ 武蔵川越 エ 越後柏崎

① ア・ウ ② ア・エ ③ イ・ウ ④ イ・エ

第8問 次の文A～Cを読み、あとの問いに答えなさい。

A 江戸幕府は諸外国の船が日本近海に現れると、対外防備を強化するとともに、異国船打払令を出して鎖国体制の強化に努めた。

B アメリカ東インド艦隊司令長官ペリーが軍艦4隻を率いて浦賀沖に現れ、日本に開国を求めた。ペリーは翌年再び来航し条約の締結を迫り、幕府は日米和親条約を結んだ。

C アメリカの総領事ハリスは通商条約の締結を強く求め、大老井伊直弼は勅許を得られないまま、日米修好通商条約の調印を断行した。

問1 Aの文章に関連して、鎖国体制の強化の下で起きた出来事として最も適切なものを次の①～④から1つ選び、番号をマークしなさい。35

① モリソン号が撃退された。 ② フェートン号が長崎湾に侵入した。
③ ゴローウニンが捕らえられた。 ④ 文化の撫恤令が出された。

問2 Bの文章に関連して、この条約に関する説明として誤っているものを次の①～④から1つ選び、番号をマークしなさい。36

- ① アメリカに片務的最恵国待遇を認めた。
- ② 伊豆下田・松前箱館の2港を開いた。
- ③ 蘭・露・英・仏とも類似の条約を結んだ。
- ④ アメリカ領事の駐在を認めた。

問3 Cの文章に関連して、これ以後の説明ア～エの正誤を判定し、その結果を下の①～⑤から1つ選び、番号をマークしなさい。37

- ア 貿易が開始されると多量の金貨が海外に流出し、物価が急上昇した。
- イ 幕府は貿易の統制をはかり、生糸・水油など5品の江戸廻送を命じた。
- ウ 改税約書の調印により外国に有利な一律5%の従量税に改められた。
- エ 条約批准書交換のために使節団が派遣され咸臨丸が護衛艦で随行した。

- ① 全て正しい
- ② アのみ誤りである
- ③ イのみ誤りである
- ④ ウのみ誤りである
- ⑤ エのみ誤りである

問4 Cの文章に関連して、この条約の改正が明治時代になり進められたが、次のア～エの文を年代順に並べたとき最も適切なものを下の①～④から1つ選び、番号をマークしなさい。38

- ア 井上馨外務卿は東京日比谷に鹿鳴館を建て条約改正を進めた。
- イ 大隈重信外務大臣は玄洋社の一青年に負傷させられた。
- ウ 青木周蔵外務大臣は大津事件で辞任した。
- エ 陸奥宗光外務大臣は日英通商航海条約の調印に成功した。

- ① ア → イ → ウ → エ
- ② ア → ウ → イ → エ
- ③ イ → ア → エ → ウ
- ④ ウ → ア → イ → エ

第9問 次の略年表を見て、あとの問いに答えなさい。

年	出来事	
1874	民撰議院設立建白書が提出される	(A)
1880	国会期成同盟が結成される	(B)
1881	開拓使官有物払下げ事件がおきる	(C)
1886	大同団結が提唱される	(D)
1887	三大事件建白運動がおきる	(E)
1890	第1回衆議院議員総選挙がおこなわれる	
	第1回帝国議会が開かれる	(F)
1891	第2回帝国議会が開かれる	
1892	第2回衆議院議員総選挙がおこなわれる	
	第3回帝国議会が開かれる	

問1 次の史料の法令の発出に関連する出来事として最も適切なものを下の①～④から1つ選び、番号で答えなさい。 [39]

集会条例 第一条
 政治ニ関スル事項ヲ講談論議スル為メ、公衆ヲ集ムル者ハ、開会三日前ニ講談
 論議ノ事項、講談論議スル人ノ姓名、住所、会同ノ場所、年月日ヲ詳記シ、其
 会主又ハ会長、幹事等ヨリ管轄警察署ニ届出テ、其認可ヲ受クヘシ。

- ① (A) ② (B) ③ (C) ④ (D)

問2 略年表中の(C)の出来事に関連して、この時に政府がとった対応の組合せとして最も適切なものを下の①～⑥から1つ選び、番号をマークしなさい。 [40]

- ア 大審院の設置 イ 元老院の設置
 ウ 国会開設の勅諭の発出 エ 大隈重信の罷免

- ① ア・イ ② ア・ウ ③ ア・エ
 ④ イ・ウ ⑤ イ・エ ⑥ ウ・エ

問3 略年表中の(C)～(D)の間の時期におきた次のア～エの出来事を年代順に並べたとき最も適切なものを下の①～④から1つ選び、番号をマークしなさい。41

- ア 立憲改進黨の結成 イ 自由黨の結成
ウ 秩父事件 エ 福島事件

- ① ア → イ → ウ → エ ② イ → ア → ウ → エ
③ ア → イ → エ → ウ ④ イ → ア → エ → ウ

問4 略年表中の(E)の出来事に関連して、この時の要求項目として誤っているものを次の①～④から1つ選び、番号をマークしなさい。42

- ① 地租の軽減 ② 普通選挙の実現
③ 言論・集会の自由 ④ 外交失策の回復

問5 略年表中の(F)の出来事に関連して、この時の議会について述べた文として誤っているものを次の①～④から1つ選び、番号をマークしなさい。43

- ① 民党は政費節減・民力休養を主張した。
② 政府は超然主義の立場をとった。
③ 政府は「利益線」の防衛を主張し陸海軍の増強を主張した。
④ 野党勢力は閥族打破・憲政擁護を主張した。

