

2026年度 共愛学園前橋国際大学
一般選抜B

地歴（歴史総合、日本史探究）試験
（試験時間60分）

〔注意事項〕

1. 試験時間中に机の上に置ける物は、受験票、筆記用具、消しゴム、時計（時計機能のみのもの）のみです。これ以外のものは試験時間中に使用することはできません。
2. 解答用紙には、氏名・受験番号・試験区分・科目を忘れずに記入およびマークをしてください。
3. 解答用紙に正しく記入・マークされていない場合は、採点できないことがあります。
4. 解答は解答用紙の解答欄にマークしてください。例えば、3と表示のある問いに対して2と解答する場合は、解答記入欄2にマークしてください。
5. 試験中、質問がある場合や、気分が悪くなった場合は、手をあげて試験監督者から指示を受けてください。
6. 不正行為があったときは、直ちに退室を命じ受験資格を取り消します。それ以後の受験はできません。すでに受験したすべての科目も無効とします。
7. 試験監督者の指示があるまで、退席しないでください。
8. 試験終了時には、解答用紙のみ提出し、その他は持ち帰ってください。

注：以下の問題において資史料は一部省略したり、書き改めたりしたところがあります。

第1問 前橋さんの学校では国際理解教育の一環として、外国の高校生を招いて交流しています。前橋さんは今回来日した高校生オリビアに日本の文化を見てもらいたいと考え、学校の部活動では(a) 書道部、茶道部、華道部と(b) カルタ部を見学してもらい、自宅では(c) 日本の文化を紹介しました。

問1 上の文中の下線部 (a) に関連して、次のA群の文ア、イの説明に当てはまる文化の組合せとして最も適切なものを下の①～④から1つ選び、番号をマークしなさい。 **1**

A群 ア この文化では、尊円入道親王が青蓮院流を創始した。
イ この文化では、池坊専好が立花を大成した。

- ① ア 書道 イ 茶道 ② ア 華道 イ 茶道
③ ア 書道 イ 華道 ④ ア 茶道 イ 華道

問2 上の文中の下線部 (b) に関連して、次の文の () に当てはまる語として最も適切なものを下の①～④から1つ選び、番号をマークしなさい。 **2**

カルタ部では「小倉百人一首」の競技カルタを練習しています。「小倉百人一首」は () が、万葉の時代から新古今の時代までの100人の代表的歌人の和歌を選び、まとめたものといわれています。

- ① 大伴家持 ② 紀貫之 ③ 藤原俊成 ④ 藤原定家

問3 上の文中の下線部 (c) に関連して、オリビアは前橋さんの家でいろいろな日本文化を教わり、メモを作りました。下記「オリビアのメモ」のうち、室町時代に様式の原型ができた文化として最も適切なものを①～⑥から1つ選び、番号をマークしなさい。 **3**

「オリビアのメモ」

- ① dress (o b i ・ y u k a t a)
② room (t o k o n o m a ・ t a t a m i)
③ play (o r i g a m i ・ o t e d a m a)
④ meal (s u k i y a k i ・ u d o n)
⑤ shoes (z o u r i ・ g e t a)
⑥ events (h i n a m a t s u r i ・ t a n a b a t a)



問4 前橋さんは江戸時代の文化について資料を使い説明しようとしています。江戸時代の作品として誤っているものを次の①～④から1つ選び、番号をマークしなさい。 **4**



問5 前橋さんはオリーブへのお土産に日本の伝統工芸品を考えています。日本の伝統工芸品の産地と工芸品の組合せとして最も適切なものを次の①～④から1つ選び、番号をマークしなさい。 **5**

- | | |
|----------|----------|
| ① 飛騨・絹織物 | ② 越前・九谷焼 |
| ③ 加賀・奉書紙 | ④ 尾張・有松絞 |

第2問 次の資料を見て、あとの問いに答えなさい。



F

著作権の関係 で表示して おりません	著作権の関係 で表示して おりません
※週刊少年サンデー ©小学館	※週刊少年マガジン 創刊号表紙 1959年3月26号 講談社

問1 資料Aの出来事が起きた頃の出来事として最も適切なものを次の①～④から1つ選び、番号をマークしなさい。 **6**

- ① 生麦事件が起こった。
- ② 各地で私擬憲法が起草された。
- ③ 太陰太陽暦を廃し太陽暦が採用された。
- ④ 家父長中心の民法が作成された。

問2 資料Bから読み取れる世相として最も適切なものを次の①～④から1つ選び、番号をマークしなさい。 **7**

- ① 戦争が起きると日本は未曾有の好景気に沸き立った。
- ② 戦争が終わると戦後恐慌や米価高騰により騒動が起きた。
- ③ 震災手形の処理法案を巡る不安から取り付け騒ぎが起きた。
- ④ 農業恐慌の対策で農山漁村経済更生運動が始まった。

問3 資料Cに関する説明ア・イと資料Dに関する説明ウ・エについて、正しい説明の組合せとして最も適切なものを下の①～④から1つ選び、番号をマークしなさい。8

資料C ア 国内では内村鑑三や幸徳秋水らが非戦論・反戦論をとらえた。

イ 甲午農民戦争が起こると両国は出兵し対立が深まった。

資料D ウ 講和条約により遼東半島、台湾、澎湖諸島が日本領となった。

エ 講和条約により北緯50度以南の樺太が日本領となった。

- ① ア・ウ ② ア・エ ③ イ・ウ ④ イ・エ

問4 資料Eが初めて使われた頃の出来事として最も適切なものを次の①～④から1つ選び、番号をマークしなさい。9

① 男女雇用機会均等法が成立し働き方の見直しが始まった。

② 女性の参政権が認められ最初の総選挙がおこなわれた。

③ 15歳未満及び女子の1日12時間以上の就業が禁止された。

④ 女性の電話交換手やタイピストが出現し職業婦人とよばれた。

問5 資料Fの本が創刊された頃の出来事の組合せとして最も適切なものを下の①～⑥から1つ選び、番号をマークしなさい。10

ア スーパーマーケットが登場した。

イ コンビニエンスストアが登場した。

ウ インスタントラーメンが登場した。

エ ファミコンが登場した。

① ア・イ ② ア・ウ ③ ア・エ

④ イ・ウ ⑤ イ・エ ⑥ ウ・エ

第3問 次の史料A～Eを読み、あとの問いに答えなさい。

A

憲法十七条

一に曰く、和を以て貴しとなし、忤ふること無きを宗とせよ。

二に曰く、篤く三宝を敬へ。

三に曰く、詔を承りては必ず謹め。君をば則ち天とす、臣をば則ち地とす。

B

改新の詔

其の二に曰く、初めて京師を修め、畿内・国司・郡司・関塞・斥候・防人・
駅馬・伝馬を置き、及び鈴契を造り、山河を定めよ。

其の三に曰く、初めて戸籍・計帳・班田収授の法を造れ。

C

熟田津余 船乗世武登 月待者 潮毛可奈比沼 今者許芸乞菜

ぬかたのおおきみ
額田王

D

防人歌

韓衣 裾に取りつき 泣く子らを 置きてそ来ぬや 母なしにして

E

和銅改元

和銅元年春正月乙巳、武蔵国秩父郡、和銅を献ず。詔して曰く、「…東方武蔵国
尔自然作成和銅出在止奏而献焉。…故、改慶雲五年而和銅元年為而御世年号止
定賜。…」

問3 史料Cと史料Dに関連して、史料Cについてはア、イから、史料Dについてはウ、エからそれぞれ最も関連する文を選び、その組合せを下の①～④から1つ選び、番号をマークしなさい。14

- 史料C ア 斉明朝で百済救援軍が派遣された。
イ 舒明朝で第1回遣唐使が派遣された。
史料D ウ 律令制下での農民の姿をうたっている。
エ 律令制下での防人の心情をうたっている。

- ① ア・ウ ② ア・エ ③ イ・ウ ④ イ・エ

問4 史料Eに関連して、次の文中の(a)、(b)に当てはまる語と文の組合せとして最も適切なものを下の①～④から1つ選び、番号をマークしなさい。15

この史料によると、現在の(a)から銅が献上され、政府はこれを喜び、慶雲五年を和銅元年と改めたことがわかる。また銅銭が発行されたが(b)。

- (a) ア 東京都 イ 埼玉県
(b) ウ 交易手段として稲や布が用いられ貨幣の流通範囲は限られていた
エ 良質な貨幣が不足していたので悪銭の使用禁止が問題とされた

- ① ア・ウ ② ア・エ ③ イ・ウ ④ イ・エ

第4問 前橋さんは平安時代に関する次の表を作成しました。これを見て、あとの問いに答えなさい。

表	およその時期区分	代表的天皇	政治の動き
A	8世紀末～9世紀初め	桓武天皇・嵯峨天皇	律令政治の再建
B	9世紀	文徳天皇・清和天皇	藤原氏の台頭
C	9世紀末～10世紀中頃	醍醐天皇・村上天皇	律令政治の再建
D	10世紀後半～ 11世紀中頃	冷泉天皇・三条天皇 後一条天皇・後冷泉天皇	藤原氏の摂関政治
E	11世紀後半～12世紀	後三条天皇・白河天皇	院政による政治

問1 前橋さんは平安時代を考えるにあたり、次のア～エの史料を見つけました。前橋さんが史料を見つけられなかった時期として最も適切なものを下の①～⑤から1つ選び、番号をマークしなさい。[16]

ア	方今、天下の苦しむところは軍事と造作となり。此の両事を停めば百姓安んぜむ
イ	其れ万機の巨細、百官己に総べ、皆太政大臣に關白し、然る後に奏下すること一に旧事の如くせよ
ウ	此の世をば我が世とぞ思ふ望月の かけたることも無しと思へば
エ	世ノ政ヲハジメテ院中ニテシラセ給

- ① A ② B ③ C ④ D ⑤ E

問2 表の時期に関する次のア～オの事件を年代順に並べた時、最も適切なものを下の①～④から1つ選び、番号をマークしなさい。[17]

- ア 応天門の変 イ 承和の変 ウ 阿衡の紛議
エ 安和の変 オ 昌泰の変

- ① ア → イ → ウ → エ → オ ② ア → イ → ウ → オ → エ
③ イ → ア → ウ → エ → オ ④ イ → ア → ウ → オ → エ

問3 表のDの時期の文化として最も適切なものを次の①～④から1つ選び、番号をマークしなさい。 **18**

- | | | | |
|---|---------------------------------------|---|---|
| ① | 著作権の関係で
表示していません

※法華寺十一面観音像 | ② | 著作権の関係で
表示していません

※平等院鳳凰堂の
仏像彫刻 |
| ③ | 著作権の関係で
表示していません

※興福寺阿修羅像 | ④ | 著作権の関係で
表示していません

※金色堂内陣 |

※中尊寺許諾済

問4 表のEの時期に関連して、この時期の出来事として誤っているものを次の①～④から1つ選び、番号をマークしなさい。 **19**

- ① 上皇は六勝寺などの造営や熊野詣や高野詣をおこなった。
- ② 大寺院では僧兵を組織し神木や神輿を立てて朝廷に強訴した。
- ③ 平将門は東国で反乱を起こし、藤原純友は瀬戸内で反乱を起こした。
- ④ 保元の乱や平治の乱を通して平清盛は武家の棟梁の地位を高めた。

問5 前橋さんは平安時代を次のア～エのようにまとめました。ア～エについての正誤として最も適切なものを下の①～⑤から1つ選び、番号をマークしなさい。 **20**

- ア 律令制度による政治や社会が揺らぎ、立て直しが試みられたが、律令制度による政治は次第に衰退していった。
- イ 律令制度を立て直す動きがあった頃は唐風文化が盛んだったが、摂関政治がおこなわれた頃は国風文化が盛んだった。
- ウ 政治は天皇の権威の下で、母方の外戚や前の天皇が実権を握っておこなわれた。
- エ 律令制度による統治が十分機能しなくなると、地方では紛争解決や領地確保のために武装するものが現れた。

- ① 全て正しい
- ② アのみ誤っている
- ③ イのみ誤っている
- ④ ウのみ誤っている
- ⑤ エのみ誤っている

第5問 次の会話を読み、あとの問いに答えなさい。

先生：今日は鎌倉時代を中心に、武士がどのように土地支配を広げたかを考えよう。

生徒：平氏が滅んだ後、義経追討の名目で諸国に守護が、荘園や公領などに地頭が置かれました。

先生：そう。この時の守護の任務を大犯三ヶ条といい、その内容は治安の維持や国内の武士の統率でした。地頭の任務は年貢の徴収と納入、それに治安維持でした。

生徒：守護や地頭は全国に広く設置できたのですか。

先生：いいえ。配置は限定的でした。例えば地頭は（ a ）に配置されていました。

生徒：そうですか。この後はどう進んだのですか。

先生：大きな動きは承久の乱で幕府が勝利し、(b)朝廷と幕府の力関係が変わったことです。

生徒：武士が土地支配を広げるにはどんなやり方があったのですか。

先生：地頭は配置された荘園で荘園領主への年貢納入を怠ったり、土地の境界を巡り紛争したり、(c)農民に横暴な行為をするようになりました。

生徒：地頭の行動に対して荘園領主や農民たちは困ったでしょう。

先生：困ったでしょうね。幕府へ訴えました。(d)幕府も裁判の迅速化と正確性を目的に裁判制度の確立に努めました。でも現地での武士の行動を抑えることは難しかった。

そこでやむを得ず、荘園領主側は（ e ）や下地中分といった対策を取りました。

生徒：それって、荘園領主にしてみれば武力で紛争を起こした武士に対し、年貢の確保を優先させて、武士に土地支配や土地所有を認めるってことですか。

問1 文中の（ a ）に入る語として、最も適切なものを次の ①～④ から1つ選び、番号をマークしなさい。 [21]

- ① 関東御分国 ② 平家没官領や謀叛人跡
- ③ 御料所 ④ 蔵入地

問2 文中の下線部（ b ）に関連して、承久の乱の結果として誤っているものを次の ①～④ から1つ選び、番号をマークしなさい。 [22]

- ① 幕府が皇位継承や朝廷の政治に干渉するようになった。
- ② 京都守護に代わり六波羅探題が設置された。
- ③ 上皇方に味方した貴族や武士の領地が没収された。
- ④ 北条氏得宗による専制政治が強化された。

問3 文中の下線部(c)に関連して、この事実を示す史料として最も適切なものを次の①～④から1つ選び、番号をマークしなさい。23

- ① 紀伊国阿氏河荘民の訴状 ② 二条河原落書
③ 柳生徳政碑文 ④ 尾張国郡司百姓等解

問4 文中の下線部(d)に関連して、幕府が新たに設置した所領関係の訴訟を担当する部署として最も適切なものを次の①～④から1つ選び、番号をマークしなさい。24

- ① 連署 ② 雑訴決断所 ③ 引付 ④ 侍所

問5 文中の(e)に当てはまる語として最も適切なものを次の①～④から1つ選び、番号をマークしなさい。25

- ① 半済 ② 地頭請 ③ 百姓請 ④ 守護請

第6問 次の南北朝時代～室町時代に関する文A～Eを読み、あとの問いに答えなさい。

A 足利尊氏、直義兄弟は(a)の勧めで、(b)の冥福を祈るために天龍寺を建立しようとし、その造営費調達のために天龍寺船を元に派遣した。

問1 Aの文中の(a)・(b)に入る語の組合せとして最も適切なものを下の①～④から1つ選び、番号をマークしなさい。26

- (a) ア 夢窓疎石 イ 無学祖元
(b) ウ 後醍醐天皇 エ 後鳥羽上皇

- ① ア・ウ ② ア・エ ③ イ・ウ ④ イ・エ

B 足利義満が始めた日明貿易は（ a ）の形式でおこなわれ、おもな輸入品に（ b ）があった。

問2 Bの文中の（a）・（b）に入る語の組合せとして最も適切なものを下の①～④から1つ選び、番号をマークしなさい。27

- （a） ア 朝貢 イ 対等
（b） ウ 刀剣 エ 銅銭

- ① ア・ウ ② ア・エ ③ イ・ウ ④ イ・エ

C 応仁の乱の後に、日明貿易の実権は博多の商人と結んだ大内氏と堺の商人と結んだ（ a ）の手に移ったが、（ b ）の後は、大内氏が貿易を独占した。

問3 Cの文中の（a）・（b）に入る語の組合せとして最も適切なものを下の①～④から1つ選び、番号をマークしなさい。28

- （a） ア 細川氏 イ 山名氏
（b） ウ 寧波の乱 エ 応永の外寇

- ① ア・ウ ② ア・エ ③ イ・ウ ④ イ・エ

D 日明貿易では渡来僧や留学生が往復し、彼らはこの時期の日本の文化に大きな影響を与えた。足利義満の頃には絶海中津・義堂周信らが出て（ a ）が最盛期となった。また、水墨画では（ b ）。

問4 Dの文中の（a）・（b）に入る語と文の組合せとして最も適切なものを下の①～④から1つ選び、番号をマークしなさい。29

- （a） ア 五山文学 イ 朱子学
（b） ウ 土佐光信が土佐派の基礎を固めた
 エ 雪舟が日本的な水墨画様式を創造した

- ① ア・ウ ② ア・エ ③ イ・ウ ④ イ・エ

E 室町時代は民衆の地位向上を背景に、民衆が楽しむ文化が生まれた。その例として、小歌の歌集である (a) や (b) の『犬筑波集』が編集された。また民衆に好まれた物語に (c) がある。

問5 Eの文中の (a)・(b)・(c) に入る語の組合せとして最も適切なものを下の ①～⑧ から1つ選び、番号をマークしなさい。 [30]

- (a) ア 『梁塵秘抄』 イ 『閑吟集』
 (b) ウ 俳諧連歌 エ 正風連歌
 (c) オ 浮世草子 カ 御伽草子

- ① ア・ウ・オ ② ア・ウ・カ ③ ア・エ・オ ④ ア・エ・カ
 ⑤ イ・ウ・オ ⑥ イ・ウ・カ ⑦ イ・エ・オ ⑧ イ・エ・カ

第7問 前橋さんは歴史年表を見ていて、歴史上の出来事には元号（年号）を使った名称が多いことに気付きました。そこで、17世紀を中心に元号（年号）を使った出来事を下の表のように書き出してみました。

表

ア 天正遣欧使節	イ 文禄の役	ウ 慶長の役	エ 慶長遣欧使節
オ 元和の大殉教	カ 慶安の変	キ 明暦の大火	ク 貞享暦採用
ケ 元禄改鋳	コ 宝永の大噴火	サ 正徳の治	シ 享保の改革

問1 表を見て、キリスト教に関連した出来事の組合せとして最も適切なものを次の ①～④ から1つ選び、番号をマークしなさい。 [31]

- ① ア・キ ② エ・キ ③ オ・キ ④ ア・オ

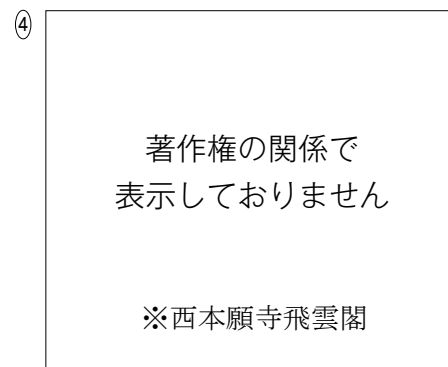
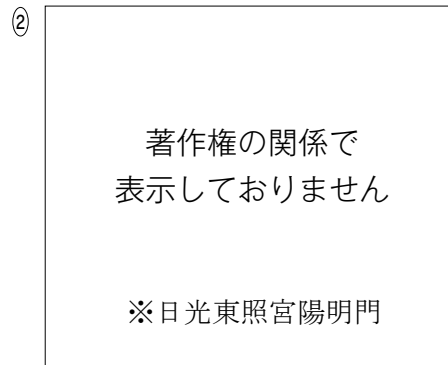
問2 表の「カ」の出来事に関連して、次の文中の (a)、(b) に当てはまる語と文の組合せとして最も適切なものを下の ①～④ から1つ選び、番号をマークしなさい。 [32]

この出来事は、大名の改易や減封により発生した牢人が幕府政治への不満から起こした事件で、(a) の乱ともいわれる。事件後に幕府は (b)。

- (a) ア 竹内式部 イ 由井正雪
 (b) ウ 末期養子の禁を緩和した エ 寺請制度を設けた

- ① ア・ウ ② ア・エ ③ イ・ウ ④ イ・エ

問3 表の「ケ」の出来事に関連して、この時期の文化財として最も適切なものを次の①～④から1つ選び、番号をマークしなさい。33



問4 表の「サ」と「シ」の出来事に関連して、この2つの出来事を比較し、共通する政策として最も適切なものを次の①～④から1つ選び、番号をマークしなさい。34

- ① 朱子学を正学とし、それ以外の学派を異学とした。
- ② 慶長小判を基準とする貨幣を発行した。
- ③ 百姓の出稼ぎを禁じて、強制的に帰農させようとした。
- ④ 株仲間を積極的に公認した。

第8問 次の文を読み、あとの問いに答えなさい。

- A 江戸時代の初期の農村は自給自足の経済が原則であったが、(a) 農業技術や農業知識が普及し、農村で商品作物が栽培されるようになった。その結果、生活の向上が見られた一方で、作物の売買を通じて貨幣が農村に流入し、農村社会は貨幣経済に巻き込まれていった。農民の中には借金などで生活が困窮し土地を質入れしたり手放したりするものが現れた。
- B 武士や町人は都市生活者である。武士の収入は家禄に応じて支給される年貢に頼っていた。毎日の生活で衣食住にはお金が必要であり、身近に(b) 人気の娯楽や流行の商品があれば見たくなるし手に入れたくなる。したがって都市生活者にとって米価や諸物価の上昇は生活を圧迫する大問題であった。
- C こうした状況で、火山の噴火や冷害などにより凶作が起きると、農民はもとより都市生活者の生活は大変な状況になる。(c) 武士は年貢を増徴しようとし、農民はこれに抵抗しようとし、都市住民は富裕層と貧困層に分かれていった。
- D 江戸時代の中期以降、封建社会が大きく動揺していく中で、(d) 江戸幕府はさまざまな改革をおこない、体制の立て直しに努めた。また、こうした社会の中であっても(e) 人々は生活の中に娯楽や楽しみを見出していた。

問1 Aの文中の下線部(a)に関連して、次のア～エから下線部に関する説明文の正誤を考え、下の①～⑥から1つ選び、番号をマークしなさい。[35]

- ア 宮崎安貞の『農業全書』が刊行された。 イ 肥料に干鰯や油粕が利用された。
ウ 備中鍬、唐箕、千歯扱などが使われた。 エ 駿河や山城でお茶が栽培された。

- ① 全て正しい ② アのみ誤り ③ イのみ誤り
④ ウのみ誤り ⑤ エのみ誤り

問2 Bの文中の下線部(b)に関連して、次のア～エから下線部に関する説明として最も適切な組合せを下の①～⑥から1つ選び、番号をマークしなさい。[36]

- ア 江戸の歌舞伎では中村座、市村座、森田座の三座が人気であった。
イ 屏風絵として洛中洛外図、職人尽絵、南蛮屏風など風俗画が描かれた。
ウ 浮世絵師の喜多川歌麿は美人画を、東洲斎写楽は役者絵を描いた。
エ 語り物である浄瑠璃と三味線を組合せた人形浄瑠璃が生まれた。

- ① ア・イ ② ア・ウ ③ ア・エ
④ イ・ウ ⑤ イ・エ ⑥ ウ・エ

問3 Cの文中の下線部(c)に関連して、次の文ア～エから下線部に関する説明として誤っているものを下の①～④から1つ選び、番号をマークしなさい。[37]

- ア 幕府は年貢増徴策として検見法を改め定免法を採用した。
- イ 幕府は田畑田永代売買の禁止や分地制限令により農民の零細化を防いだ。
- ウ 上野の礫茂左衛門は義民として伝説化した。
- エ 山城の国一揆では8年間にわたり山城の国を一揆勢が支配した。

① ア ② イ ③ ウ ④ エ

問4 Dの文中の下線部(d)に関連して、次の史料ア～エに当てはまる時期を年代順に並べた時、正しいものを下の①～④から1つ選び、番号をマークしなさい。[38]

- ア 年号は安く永しと変はれども 諸式高直いまにめいわ九 狂歌一首
- イ 上げ米といへ上米は気に入らず 金納ならばしじうくろふぞ 狂歌一首
- ウ 世の中に蚊ほどうるさきものはなし ぶんぶといふて夜るもねられず 狂歌一首
- エ 白河の岸打波に引換て浜松風の音の烈しさ 狂歌一首

① ア → イ → ウ → エ ② ア → イ → エ → ウ
③ イ → ア → ウ → エ ④ イ → ア → エ → ウ

問5 Dの文中の下線部(e)に関連して、次の語ア～エから誤っているものを下の①～④から1つ選び、番号をマークしなさい。[39]

- ア 隆達節・女歌舞伎
- イ 縁日・開帳・富くじ
- ウ 御蔭参り・巡礼
- エ 庚申講・寄席

① ア ② イ ③ ウ ④ エ

第9問 次の文A～Gを読み、あとの問いに答えなさい。

A 桂太郎内閣が組織されると、「宮中・府中の別を乱す」との批判が起こり、(a) 第一次護憲運動が広がった。

B 山本権兵衛内閣は軍部大臣現役武官制を改めた。

C 大隈重信内閣は (b) を理由に第一次世界大戦に参戦し、翌年二十一カ条の要求をおこなった。

D 寺内正毅内閣の時に (c) を見込んだ米の買い占めにより米価が急騰し米騒動が全国に広がった。

E (d) 原敬は平民宰相とよばれ国民から歓迎されたが東京駅で暗殺された。

F 清浦奎吾内閣が組織されると憲政会、立憲政友会、革新倶楽部の3党は第二次護憲運動を組織した。

G 総選挙の結果、衆議院第一党となった(e) 憲政会総裁の加藤高明が護憲三派内閣を組織した。

問1 文Aの下線部 (a) に関連して、第一次護憲運動の中心人物の組合せとして最も適切なものを下の①～④から1つ選び、番号をマークしなさい。 **40**

ア 板垣退助 イ 尾崎行雄 ウ 犬養毅 エ 高橋是清

① ア・ウ ② ア・エ ③ イ・ウ ④ イ・エ

問2 文Cの (b) と文Dの (c) に当てはまる語の組合せとして最も適切なものを下の①～④から1つ選び、番号をマークしなさい。 **41**

(b) ア 日英通商航海条約 イ 日英同盟
(c) ウ 山東出兵 エ シベリア出兵

① ア・ウ ② ア・エ ③ イ・ウ ④ イ・エ

問3 文Eの下線部(d)に関連して、原内閣に関する説明として誤っているものを下の①～④から1つ選び、番号をマークしなさい。[42]

- ア 選挙権の資格を直接国税3円以上に引き下げた。
- イ 陸軍、海軍、外務の3大臣以外を政友会党员で組織した。
- ウ パリ講和会議に西園寺公望を全権として派遣した。
- エ 国際競争力の強化をめざし金輸出解禁を断行した。

① ア ② イ ③ ウ ④ エ

問4 文B～文Eの出来事を年代順に並べた時、正しいものを次の①～④から1つ選び、番号をマークしなさい。[43]

- ① B → C → D → E ② B → C → E → D
- ③ C → B → D → E ④ C → B → E → D

問5 文Gの下線部(e)に関連して、この時の内閣に関する説明として最も適切なものを次の①～④から1つ選び、番号をマークしなさい。[44]

- ① 普通選挙法が成立し満25歳以上の男性が選挙権を持った。
- ② ワシントン海軍軍備制限条約が結ばれ主力艦の保有比率が決まった。
- ③ 陸軍の2個師団増設の要求を財政上困難として拒絶した。
- ④ 学校教育法が制定され6・3・3・4の学制が発足した。

